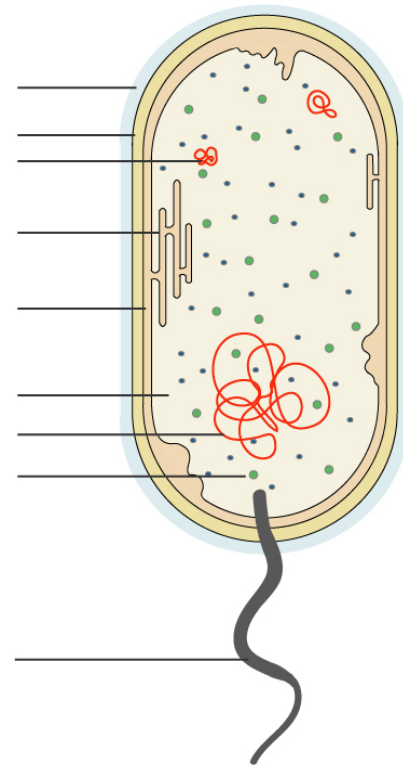


GENETIK: Bakterien & Viren



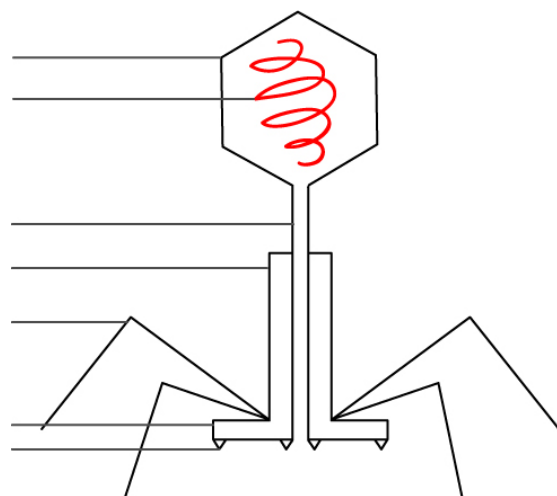
1. Beschriften Sie die Abbildung. Um was für einen Organismus handelt es sich?

Name des Organismus:



2. Beschriften Sie die Abbildung. Um was für einen Organismus handelt es sich?

Name des Organismus:

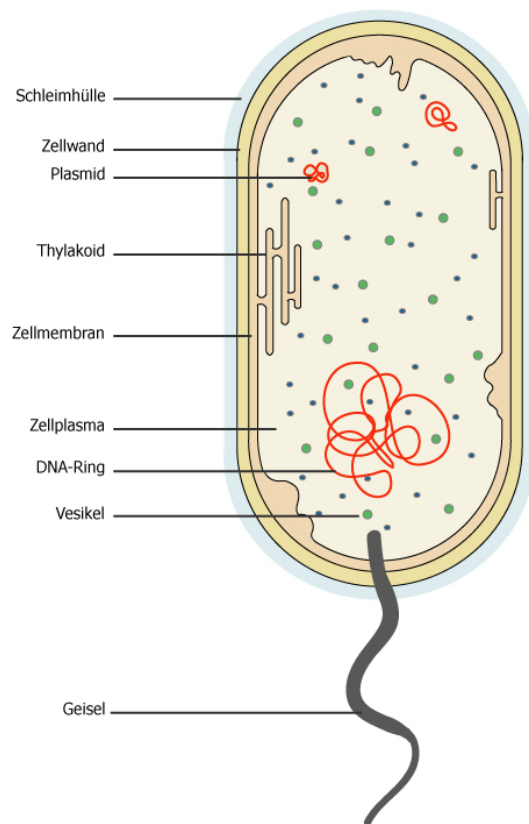


LÖSUNG:

1. Beschriften Sie die Abbildung. Um was für einen Organismus handelt es sich?

Name des Organismus:

Escherichia Coli



2. Beschriften Sie die Abbildung. Um was für einen Organismus handelt es sich?

Name des Organismus:

Bakteriophage (T2-Phage)

